

**PART – 1 (Teaching Ability, Reasoning and General Knowledge)****भाग - 1 (शैक्षिक अभिवृत्ति, तर्कशक्ति एवं सामान्य ज्ञान)****(Question Number 1 to 100) / (प्रश्न संख्या 1 से 100 तक)**

- |  |   |
|--|---|
| <p>1. Teacher uses visual-aids to make learning—<br/>         (A) Simple<br/>         (B) Quicker<br/>         (C) More knowledge<br/>         (D) Interesting</p> <p>2. The most important cause of failure of teacher lies in the area of—<br/>         (A) Interpersonal relationship<br/>         (B) Verbal ability<br/>         (C) Lack of command over the knowledge of the subject<br/>         (D) None of these</p> <p>3. Which is the least important factor in teaching—<br/>         (A) Punishing the students<br/>         (B) Maintaining discipline in the class<br/>         (C) Lecturing in impressive way<br/>         (D) None of these</p> <p>4. For showing the model in the teaching of a topic teacher should—<br/>         (A) Keep showing throughout the lecture<br/>         (B) Stand in front of the model<br/>         (C) Show model when need arises<br/>         (D) None of these</p> <p>5. Who wrote 'Indica'—<br/>         (A) Kalidasa (B) Kautilya<br/>         (C) Magasthenese (D) None of them</p> <p>6. Who is appointed as the speaker of 16th Lok Sabha ?<br/>         (A) Arun Jaitly<br/>         (B) Sumitra Mahajan<br/>         (C) Sushma Swaraj<br/>         (D) Govind Singh Kunjwal</p> | <p>1. अध्यापक दृश्य साधनों का प्रयोग अध्यापन निम्नलिखित बनाने के लिए करता है—<br/>         (A) सरल<br/>         (B) समय बचाने के लिए<br/>         (C) अधिक ज्ञान के लिए<br/>         (D) रूचिकर बनाने के लिए</p> <p>2. अध्यापक की असफलता का सबसे बड़ा कारण है—<br/>         (A) अन्तर्वैयक्तिक सम्बन्ध<br/>         (B) वाक् दक्षता<br/>         (C) विषय के ऊपर पर्याप्त नियन्त्रण न होना<br/>         (D) उपरोक्त में कोई नहीं</p> <p>3. अध्यापन में सबसे अनावश्यक कारक कौन है—<br/>         (A) छात्रों को दण्ड देना<br/>         (B) कक्षा में अनुशासन रखना<br/>         (C) प्रभावशाली ढंग से व्याख्यान देना<br/>         (D) उपरोक्त में कोई नहीं</p> <p>4. किसी पाठ के शिक्षण में मॉडल के उपयोग के स शिक्षक को करना चाहिए—<br/>         (A) उसे लैक्चर के दौरान लगातार दिखलाना चाहिए<br/>         (B) मॉडल के सामने खड़े होना चाहिए<br/>         (C) आवश्यकता होने पर दिखाना चाहिए<br/>         (D) इनमें से कोई नहीं</p> <p>5. 'इण्डिका' का लेखक कौन था—<br/>         (A) कालीदास (B) कौटिल्य<br/>         (C) मेगस्थनीज (D) इनमें से कोई नहीं</p> <p>6. 16वीं लोकसभा के अध्यक्ष के रूप में किसे नियु किया गया है ?<br/>         (A) अरुण जेटली<br/>         (B) सुमित्रा महाजन<br/>         (C) सुषमा स्वराज<br/>         (D) गोविन्द सिंह कुँजवाल</p> |
|--|---|

7. Annual Ratha Yatra of Lord Jagannath takes place in which of the following state ?  
 (A) Tamilnadu (B) Karnataka  
 (C) Himachal Pradesh (D) Odisha
8. Who is appointed as the arbitrator in Vodafone tax dispute case ?  
 (A) Ashok Chawala (B) R. C. Lahoti  
 (C) K. K. Malhotra (D) M. B. Shah
9. An example of audio-visual media is—  
 (A) Charts (B) Television  
 (C) Radio (D) Models
10. An example of maturation is when a child learns to—  
 (A) Walk (B) Draw  
 (C) Read (D) Ride a bicycle
11. Which of the following is not a domain of learning—  
 (A) Cognitive (B) Affective  
 (C) Conative (D) Spiritual
12. Ram returned the pencil, he took from Seeta's desk because he was afraid of punishment, if he got caught. This illustrates Kohlberg's—  
 (A) Pre-conventional level  
 (B) Conventional level  
 (C) Post-conventional level  
 (D) None of these
13. 'Konkan Rail' directly connects—  
 (A) Delhi to Chennai  
 (B) Dehradun to Tanakpur  
 (C) Jammu to Kanyakumari  
 (D) None of these
14. "Operation Black Board" was the outcome of—  
 (A) Kothari Commission  
 (B) National Curriculum Framework - 2005 (NCF - 2005)  
 (C) National Policy on Education - 1986 (NPE - 1986)  
 (D) National Curriculum Framework - 2000 (NCF - 2000)
7. भगवान जगन्नाथ की वार्षिक रथ यात्रा निम्नलिखित राज्य में से किसमें सम्पन्न होती है—  
 (A) तमिलनाडु (B) कर्नाटक  
 (C) हिमाचल प्रदेश (D) उड़ीसा
8. वोडाफोन विवाद के मामले में मध्यस्थ के रूप में किसे नियुक्त किया गया है ?  
 (A) अशोक चावला (B) आर. सी. लाहोटी  
 (C) के. के. मल्होत्रा (D) एम. बी. शाह
9. दृश्य-श्रव्य माध्यम का उदाहरण है—  
 (A) चार्ट (B) टेलीविजन  
 (C) रेडियो (D) मॉडल
10. परिपक्वता का एक उदाहरण है कि जब बालक सीखता है—  
 (A) चलना (B) चित्रांकन करना  
 (C) पढ़ना (D) साइकिल चलाना
11. निम्न में से कौन सा एक अधिगम का पहलू नहीं है—  
 (A) संज्ञानात्मक (B) भावात्मक  
 (C) क्रियात्मक (D) आध्यात्मिक
12. राम ने सीता की डेस्क से ली हुई पेन्सिल वापिस रख दी क्योंकि उसे पकड़े जाने पर सजा मिलने का डर था। यह कोहलबर्ग के किस स्तर को बताता है ?  
 (A) पूर्व-परम्परागत स्तर  
 (B) परम्परागत स्तर  
 (C) उत्तर-परम्परागत स्तर  
 (D) इनमें से कोई नहीं
13. 'कोकण रेल' सीधे जोड़ती है—  
 (A) दिल्ली और चेन्नई को  
 (B) देहरादून और टनकपुर को  
 (C) जम्मू और कन्याकुमारी को  
 (D) इनमें से कोई नहीं
14. "ऑपरेशन ब्लैक बोर्ड" परिणाम था—  
 (A) कोठारी आयोग का  
 (B) राष्ट्रीय पाठ्यक्रम रचना - 2005  
 (C) राष्ट्रीय शैक्षिक योजना - 1986  
 (D) राष्ट्रीय पाठ्यक्रम रचना - 2000

15. Rural Development Minister Nitin Gadkari launched the Shyama Prasad Mukherjee National Rural Mission on ..... with an allocation of 100 crore rupees.  
 (A) PPP model  
 (B) PTP model  
 (C) VTZ model  
 (D) STS model
16. Who is the Army Chief of India—  
 (A) Vikram Singh  
 (B) B. S. Chauhan  
 (C) D. K. Jain  
 (D) Dalbir Singh Suhag
17. When is Anti-Terrorism Day observed ?  
 (A) 20 May (B) 23 May  
 (C) 22 May (D) 21 May
18. The Education Minister of Uttarakhand is—  
 (A) Harish Rawat  
 (B) Dinesh Agarwal  
 (C) Mantri Prasad Naithani  
 (D) Preetam Singh
19. Project teaching method is associated with—  
 (A) Frobel (B) John Dewey  
 (C) Armstrong (D) None of these
20. When the child is ready to learn, he learns more quickly and effectively. This principle was given by—  
 (A) Thorndike (B) Skinner  
 (C) Pavlov (D) None of these
21. A teacher in a classroom should act as a—  
 (A) Progressive role (B) Boss role  
 (C) Democratic role (D) None of these
22. The objective of teaching is to—  
 (A) Create good citizens  
 (B) Create persons who are useful for the society  
 (C) Create socialistic persons  
 (D) All the above
15. ग्रामीण विकास मन्त्री नितिन गडकरी ने ..... के आधार पर 100 करोड़ रुपये के आवंटन के साथ श्यामा प्रसाद मुखर्जी राष्ट्रीय ग्रामीण मिशन का शुभारम्भ किया।  
 (A) पी.पी.पी. मॉडल  
 (B) पी.टी.पी. मॉडल  
 (C) वी.टी.जेड. मॉडल  
 (D) एस.टी.एस. मॉडल
16. भारत के सेना प्रमुख कौन हैं—  
 (A) विक्रम सिंह  
 (B) बी. एस. चौहान  
 (C) डी. के. जैन  
 (D) दलवीर सिंह सुहाग
17. आतंकवाद-विरोधी दिवस कब मनाया जाता है ?  
 (A) 20 मई (B) 23 मई  
 (C) 22 मई (D) 21 मई
18. उत्तराखण्ड के शिक्षा मन्त्री हैं—  
 (A) हरीश रावत  
 (B) दिनेश अग्रवाल  
 (C) मन्त्री प्रसाद नैथानी  
 (D) प्रीतम सिंह
19. प्रोजेक्ट शिक्षण विधि किससे सम्बन्धित है—  
 (A) फ्रोबेल (B) जॉन डीवी  
 (C) आर्मस्ट्रॉंग (D) इनमें से कोई नहीं
20. जब बालक सीखने के लिए तैयार होता है, तब वह जल्दी व प्रभावशाली तरीके से सीखता है। यह सिद्धान्त किसने प्रतिपादित किया ?  
 (A) थॉर्नडाइक द्वारा (B) स्किनर द्वारा  
 (C) पावलोव द्वारा (D) इनमें से कोई नहीं
21. एक शिक्षक को कक्षा में कार्य करना चाहिए—  
 (A) प्रगतिशील भूमिका में (B) बॉस की भूमिका में  
 (C) प्रजातान्त्रिक भूमिका में (D) इनमें से कोई नहीं
22. शिक्षा का उद्देश्य है—  
 (A) अच्छा नागरिक बनाना  
 (B) ऐसे व्यक्तियों का निर्माण जो समाज के लिए उपायोगी हों  
 (C) व्यवहारिकता का निर्माण करना  
 (D) उक्त सभी

23. How many individuals were awarded the 2014 Raman Magsaysay Award ?  
 (A) Five (B) Six  
 (C) Four (D) None of these
24. World Elephant Day was observed across the world on which day ?  
 (A) 11 August (B) 19 July  
 (C) 12 August (D) 10 July
25. An effective teacher is one who can—  
 (A) Control the class  
 (B) Give more information in less time  
 (C) Motivate students to learn  
 (D) None of the above
26. The FIBA Asian cup is associated with which among the following sports ?  
 (A) Table Tennis (B) Hockey  
 (C) Football (D) Basketball
27. While teaching a theoretical topic in the class, teacher should proceed from—  
 (A) Unknown to known  
 (B) Concrete to abstract  
 (C) Reasoning to observation  
 (D) None of these
28. A teacher can minimize depression among students by—  
 (A) trying to understand its causes  
 (B) motivating the students  
 (C) A and B  
 (D) reporting to Principal
29. Microteaching is most effective for the students—  
 (A) During the practice teaching  
 (B) After the practice teaching  
 (C) Before the practice teaching  
 (D) None of the above
30. Value education makes a student—  
 (A) Doctor (B) Good citizen  
 (C) Engineer (D) None of these
23. कितने व्यक्तियों को 2014 रमन मैगसेसे पुरस्कार से सम्मानित किया गया है ?  
 (A) पाँच (B) छः  
 (C) चार (D) इनमें से कोई नहीं
24. विश्व हाथी दिवस दुनिया भर में किस दिन मनाया जाता है ?  
 (A) 11 अगस्त (B) 19 जुलाई  
 (C) 12 अगस्त (D) 10 जुलाई
25. एक प्रभावी शिक्षक वह है, जो कर सकता है—  
 (A) कक्षा पर नियन्त्रण  
 (B) कम समय में अधिक सूचना देना  
 (C) विद्यार्थियों को सीखने के लिए अभिप्रेरित करना  
 (D) इनमें से कोई नहीं
26. FIBA एशियाई कप निम्नलिखित खेलों के बीच किससे सम्बन्धित है ?  
 (A) टेबिल टेनिस (B) हॉकी  
 (C) फुटबॉल (D) बास्केटबाल
27. कक्षा में एक सैद्धान्तिक विषय पढ़ाने के लिए शिक्षक को निम्न क्रम में पढ़ाना चाहिए—  
 (A) अज्ञात से ज्ञात  
 (B) ठोस से सारांश  
 (C) तर्क से निरीक्षण  
 (D) इनमें से कोई नहीं
28. छात्रों की उदासीनता को कम करने के लिए अध्यापक कर सकता है—  
 (A) इसके कारणों को समझने की कोशिश करना  
 (B) छात्रों को मोटिवेट करना  
 (C) A और B  
 (D) प्रधानाचार्य को सूचित करना
29. माइक्रोशिक्षण छात्र-छात्राओं के लिए किस अवधि में सबसे प्रभावशाली होता है—  
 (A) शिक्षण अभ्यास के दौरान  
 (B) शिक्षण अभ्यास के बाद  
 (C) शिक्षण अभ्यास से पहले  
 (D) उपरोक्त में कोई नहीं
30. मूल्यआधारित शिक्षा छात्र को क्या बनाती है—  
 (A) डॉक्टर (B) अच्छा नागरिक  
 (C) अभियन्ता (D) इनमें से कोई नहीं

31. District Primary Education Programme (DPEP) was launched in the year—  
 (A) 1986 (B) 1984  
 (C) 2001 (D) None of these
32. How many gold medals were cinched by India in 2014 Glasgow Commonwealth Games—  
 (A) 10 (B) 12  
 (C) 14 (D) 15
33. In a lively classroom situation, there is likely to be—  
 (A) Occasional roars of laughter  
 (B) Complete silence  
 (C) Frequent teacher-student dialogue  
 (D) Loud discussion
34. In your view, teaching is—  
 (A) An Art (B) A Skill  
 (C) A & B (D) None of these
35. Area of individual differences is—  
 (A) Gender-difference (B) Body structure  
 (C) Mental abilities (D) All the above
36. A child who behaves against the social rules and regulations is called—  
 (A) Delinquent child (B) Idiot child  
 (C) Dull child (D) None of these
37. Kumar Sangakkara (Cricket player) belongs to which country?  
 (A) India (B) Sri Lanka  
 (C) Pakistan (D) Australia
38. For the students of 3rd class, which will be the best way for teaching?  
 (A) Lecture Method  
 (B) Creational Activities  
 (C) Group Discussion  
 (D) Laboratory Method
39. The academic performance of students can be improved if parents are encouraged to—  
 (A) Supervise the work of their wards  
 (B) Arrange for extra tuition  
 (C) Remain unconcerned about it  
 (D) None of these
31. जिला प्राथमिक शिक्षा कार्यक्रम किस वर्ष लागू किया गया था—  
 (A) 1986 (B) 1984  
 (C) 2001 (D) इनमें से कोई नहीं
32. 2014 ग्लासगो राष्ट्रमण्डल खेलों में भारत ने कितने स्वर्ण पदक जीते—  
 (A) 10 (B) 12  
 (C) 14 (D) 15
33. एक सजीव कक्षा स्थिति में निम्नलिखित में से सबसे अधिक सम्भावित है—  
 (A) कभी कभार हँसी का दौर  
 (B) पूर्ण रूप से शान्ति  
 (C) शिक्षक-छात्र वार्ता  
 (D) विद्यार्थियों के बीच खुली बहस
34. आपके अनुसार, शिक्षण है—  
 (A) एक कला (B) एक कौशल  
 (C) A और B दोनों (D) इनमें से कोई नहीं
35. व्यक्तिगत विभिन्नताओं का क्षेत्र है—  
 (A) लिंग भेद (B) शारीरिक रचना  
 (C) मानसिक योग्यताएँ (D) उक्त सभी
36. सामाजिक नियमों व कानूनों के विरुद्ध व्यवहार कर्ता वाला बालक कहलाता है—  
 (A) बाल अपराधी (B) जड़बुद्धि बालक  
 (C) मन्दबुद्धि बालक (D) इनमें से कोई नहीं
37. कुमार संगकारा किस देश के क्रिकेट खिलाड़ी हैं—  
 (A) भारत (B) श्रीलंका  
 (C) पाकिस्तान (D) ऑस्ट्रेलिया
38. कक्षा - तीन के विद्यार्थियों के लिए निम्न में से कौन-सा शिक्षण का सबसे अच्छा तरीका होगा—  
 (A) व्याख्यान विधि  
 (B) सृजनात्मक क्रिया कलाप  
 (C) समूह वार्तालाप  
 (D) प्रयोगशाला विधि
39. विद्यार्थियों की अकादमिक निष्पादन को सुधारा जा सकता है यदि अभिभावकों को उत्साहित किया जाए—  
 (A) बच्चों के कार्य का निरीक्षण करने के लिए  
 (B) अधिक ट्यूशन का प्रबन्ध करने के लिए  
 (C) इसके बारे में चिन्तित न होने के लिए  
 (D) इनमें से कोई नहीं

40. If a student often comes late in the class you would—  
 (A) Talk to his parents  
 (B) Complain to Principal about him  
 (C) Punish him severely  
 (D) Find the reason and then decide accordingly
41. A school girl developed the habit of dropping the coat on the floor. Mother asked the girl to get out of the room and hang up the coat on the peg. The girl enters house keeps coat on, approaches closet, hangs up the coat on the peg. It is an example of—  
 (A) Chain learning  
 (B) Stimulus response learning  
 (C) Concept learning  
 (D) All the above
42. A process in which an individual learns new responses by observing the behaviour of another rather than through experience is known as—  
 (A) General Learning  
 (B) Social Learning  
 (C) Experimental Learning  
 (D) None of these
43. A provision for education for the children with disabilities can be made through—  
 (A) Integration  
 (B) Main streaming  
 (C) Inclusive education  
 (D) None of these
44. For primary school children, which of the following is better ?  
 (A) Video simulation  
 (B) Hands on experiences  
 (C) Experimental  
 (D) None of these
45. 'Toy age' refers to—  
 (A) Early childhood (B) Babyhood  
 (C) A & B (D) Late childhood
46. Tobacco addiction is due to—  
 (A) Cocaine (B) Caffeine  
 (C) Nicotine (D) None of these
40. आपकी कक्षा में एक छात्र के प्रायः विलम्ब से आने पर—  
 (A) उसके अभिभावकों से बात करेंगे  
 (B) प्रधानाचार्य से उसकी शिकायत करेंगे  
 (C) उसे कठोर दण्ड देंगे  
 (D) कारण को जानकर तदनुसार निर्णय लेंगे
41. एक स्कूल जाने वाली लड़की ने फर्श पर कोट फेंकने की आदत डाल ली है। लड़की की माँ ने उससे कहा कि कमरे के बाहर जाओ और कोट को खूँटी पर टाँगो। लड़की अगली बार घर में प्रवेश करती है, कोट को हाथ पर रखकर अलमारी की तरफ जा कर कोट को खूँटी पर टाँग देती है। यह उदाहरण है—  
 (A) शृंखलागत अधिगम का  
 (B) उद्दीपन अनुक्रिया अधिगम का  
 (C) प्रव्यय अधिगम का  
 (D) उक्त सभी
42. जिस प्रक्रिया में व्यक्ति दूसरों के व्यवहार को देखकर सीखता है न कि प्रत्यक्ष अनुभव से, को कहा जाता है—  
 (A) सामान्य अधिगम  
 (B) सामाजिक अधिगम  
 (C) प्रायोगिक अधिगम  
 (D) इनमें से कोई नहीं
43. निःशक्त बालकों की शिक्षा के लिए प्रावधान किया जा सकता है—  
 (A) समाकलन द्वारा  
 (B) मुख्य धारा में डालकर  
 (C) समावेशित शिक्षा द्वारा  
 (D) इनमें से कोई नहीं
44. प्राथमिक विद्यालयों के बालकों के लिए निम्न में किसे बेहतर मानते हैं ?  
 (A) विडियो अनुरूपण  
 (B) स्वयं के द्वारा किया गया अनुभव  
 (C) प्रयोगात्मक  
 (D) इनमें से कोई नहीं
45. 'खिलौनों की आयु' कहा जाता है—  
 (A) पूर्व बाल्यावस्था (B) शैशवावस्था  
 (C) A और B दोनों (D) उत्तर बाल्यावस्था
46. तम्बाकू की आदत किससे होती है—  
 (A) कोकीन (B) कैफीन  
 (C) निकोटिन (D) इनमें से कोई नहीं

47. What is the minimum age for marriage of boys and girls in India ?  
 (A) 21 years and 18 years  
 (B) 18 years and 21 years  
 (C) 18 years and 20 years  
 (D) None of these
48. Break down in verbal communication is described as—  
 (A) Short circuit (B) Contradiction  
 (C) Unevenness (D) Entropy
49. Photographs are not easy to—  
 (A) Publish (B) Secure  
 (C) Decode (D) None of these
50. The National Disaster Management Authority functions under the Union Ministry of—  
 (A) Home affairs (B) Water Resources  
 (C) Defence (D) None of these
51. Which one of the following is the best method of teaching ?  
 (A) Lecture (B) Demonstration  
 (C) Discussion (D) Narration
52. The famous temple 'Dhari Devi' is located at—  
 (A) Near Srinagar (B) Uttarkashi  
 (C) Chamoli (D) Pithoragarh
53.  $4 : 9 :: ? : 27$   
 (A) 8 (B) 6  
 (C) 16 (D) 13
54. The sum of—  
 $1 + 2 + 3 + 4 + 5 + \dots + 100$   
 (A) 5000 (B) 4500  
 (C) 5050 (D) 4050
55.  $9\frac{3}{4} + 7\frac{2}{17} - 9\frac{1}{15} =$   
 (A)  $7\frac{817}{1020}$  (B)  $7\frac{717}{1020}$   
 (C)  $7\frac{817}{1020}$  (D)  $8\frac{717}{1020}$
47. भारत में लड़के व लड़कियों की विवाह योग्य न्यूनतम आयु क्या है ?  
 (A) 21 वर्ष व 18 वर्ष  
 (B) 18 वर्ष व 21 वर्ष  
 (C) 18 वर्ष व 20 वर्ष  
 (D) इनमें से कोई नहीं
48. मौखिक संचार में व्यवधान को कहते हैं—  
 (A) लघु परिपथ (B) अन्तर्विरोध  
 (C) असमतलता (D) एन्ट्रोपी
49. छाया-चित्रों का ..... करना आसान नहीं है।  
 (A) प्रकाशन (B) सुरक्षण  
 (C) विसंकेतन (D) इनमें से कोई नहीं
50. राष्ट्रीय आपदा प्रबन्ध प्राधिकरण केन्द्र के किस मन्त्रालय के अधीन कार्य करता है ?  
 (A) गृह मामले (B) जल संसाधन  
 (C) रक्षा (D) इनमें से कोई नहीं
51. निम्नलिखित में से शिक्षण का सर्वोत्तम ढंग कौन सा है—  
 (A) व्याख्यान (B) प्रदर्शन  
 (C) विचार विमर्श (D) वर्णन
52. प्रसिद्ध 'धारी देवी' मन्दिर स्थित है—  
 (A) श्रीनगर के नजदीक (B) उत्तरकाशी में  
 (C) चमोली में (D) पिथौरागढ़ में
53.  $4 : 9 :: ? : 27$   
 (A) 8 (B) 6  
 (C) 16 (D) 13
54.  $1 + 2 + 3 + 4 + 5 + \dots + 100$  का योग—  
 (A) 5000 (B) 4500  
 (C) 5050 (D) 4050
55.  $9\frac{3}{4} + 7\frac{2}{17} - 9\frac{1}{15} =$   
 (A)  $7\frac{817}{1020}$  (B)  $7\frac{717}{1020}$   
 (C)  $7\frac{817}{1020}$  (D)  $8\frac{717}{1020}$

56. a \_\_ bb \_\_ baa \_\_ bbb \_\_ aa \_\_  
 (A) aabba (B) bbaab  
 (C) abaaa (D) baabb
57. AZ, CX, FU, \_\_\_\_  
 (A) IR (B) IV  
 (C) JQ (D) KP
58. \_\_\_\_, PSVYB, EHKNQ, TWZCF, ILORU  
 (A) ZCFIL (B) SVYBE  
 (C) BEHKN (D) ADGJM

56. a \_\_ bb \_\_ baa \_\_ bbb \_\_ aa \_\_  
 (A) aabba (B) bbaab  
 (C) abaaa (D) baabb
57. AZ, CX, FU, \_\_\_\_  
 (A) IR (B) IV  
 (C) JQ (D) KP
58. \_\_\_\_, PSVYB, EHKNQ, TWZCF, ILORU  
 (A) ZCFIL (B) SVYBE  
 (C) BEHKN (D) ADGJM

Note : Q. No. 59 to Q. No. 62 depend upon the following coding.

Figure					
Code	1.	2.	3.	4.	5.
Figure					
Code	6.	7.	8.	9.	10.

चित्र					
कोड	1.	2.	3.	4.	5.
चित्र					
कोड	6.	7.	8.	9.	10.

59. Which number is presented by following figure—



- (A) 16198 (B) 79168  
 (C) 79816 (D) 17968

नोट : प्रश्न सं. 59 से 62 निम्नलिखित कूट के आधार पर हैं।

59. निम्नांकित कौन सी संख्या को प्रदर्शित करते हैं ?



- (A) 16198 (B) 79168  
 (C) 79816 (D) 17968

60. Which number is depicted by the following figure—



- (A) 24672 (B) 46772  
 (C) 72246 (D) 27462

60. निम्नांकित द्वारा कौन सी संख्या प्रदर्शित होती है ?



- (A) 24672 (B) 46772  
 (C) 72246 (D) 27462

61. Which number is presented by the following figure—



- (A) 56714 (B) 19844  
 (C) 56744 (D) 56144

61. निम्नांकित से कौन सी संख्या प्रदर्शित होती है ?



- (A) 56714 (B) 19844  
 (C) 56744 (D) 56144

62. Which number is presented by the following figure—



- (A) 47645 (B) 45754  
 (C) 54674 (D) 74654

62. निम्नांकित से कौन सी संख्या प्रदर्शित होती है ?



- (A) 47645 (B) 45754  
 (C) 54674 (D) 74654

63. Complete the following Number Series :

1, 3, 11, 47, ....., 1439

- (A) 239 (B) 293  
(C) 932 (D) None of these

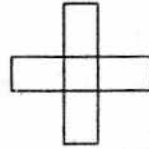
64. 15, 10, 5, 150, 16, 12, 4, 192, 20, 15, 5, .....

- (A) 700 (B) 600  
(C) 400 (D) 300

65. 2, 20, 120, ....., 3190

- (A) 220 (B) 330  
(C) 440 (D) 630

66. How many rectangles are there in the following figure—



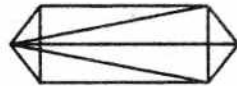
- (A) 9 (B) 10  
(C) 16 (D) None of these

67. Find the missing letter in the following table—

A	C	E
N	K	H
R	V	?

- (A) Z (B) T  
(C) L (D) I

68. In the following figure how many triangles are there—



- (A) 11 (B) 14  
(C) 16 (D) 22 or more

69. If  $A = 1$  and  $AID = 36$ , then  $BELL = ?$

- (A) 16690 (B) 2210  
(C) 1440 (D) 1210

70. Who has been appointed as the new Railway Minister—

- (A) Suresh Prabhu  
(B) Manohar Parrikar  
(C) Bipendra Singh  
(D) Jagat Prakash Nadda

63. निम्न संख्या श्रेणी को पूरा कीजिए :

1, 3, 11, 47, ....., 1439

- (A) 239 (B) 293  
(C) 932 (D) इनमें से कोई न

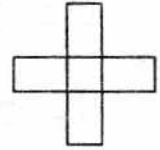
64. 15, 10, 5, 150, 16, 12, 4, 192, 20, 15, 5, ..

- (A) 700 (B) 600  
(C) 400 (D) 300

65. 2, 20, 120, ....., 3190

- (A) 220 (B) 330  
(C) 440 (D) 630

66. नीचे दिये गये चित्र में कितने आयत हैं—



- (A) 9 (B) 10  
(C) 16 (D) इनमें से कोई न

67. चित्र में दी गई तालिका में छूटे हुए अक्षर की पूर्ति कीजिए—

A	C	E
N	K	H
R	V	?

- (A) Z (B) T  
(C) L (D) I

68. दी गई आकृति में त्रिभुजों की संख्या ज्ञात कीजिए—



- (A) 11 (B) 14  
(C) 16 (D) 22 या अधिक

69. यदि  $A = 1$  और  $AID = 36$ , तो  $BELL = ?$

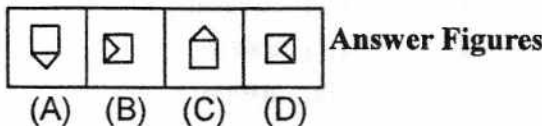
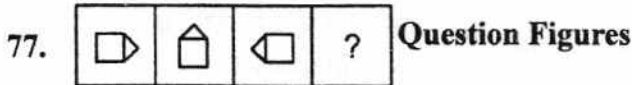
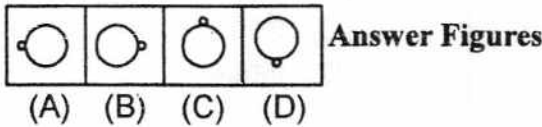
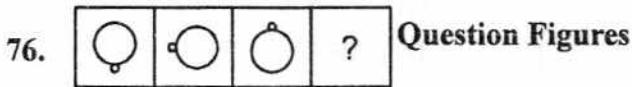
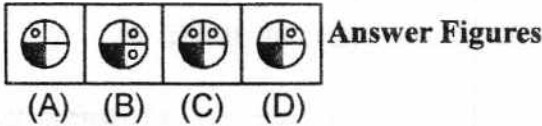

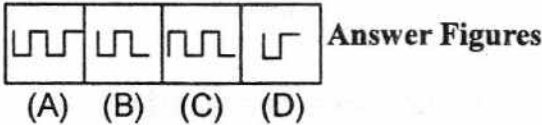
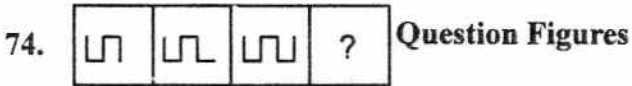
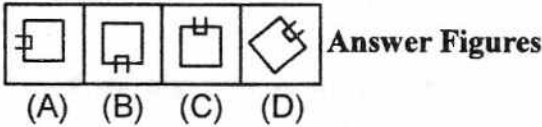
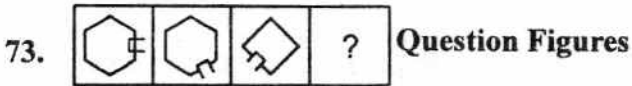
- (A) 16690 (B) 2210  
(C) 1440 (D) 1210

70. नये रेल मन्त्री के रूप में किसे नियुक्त किया है—

- (A) सुरेश प्रभु  
(B) मनोहर पारिकर  
(C) बिपेन्द्र सिंह  
(D) जगत प्रकाश नाडा

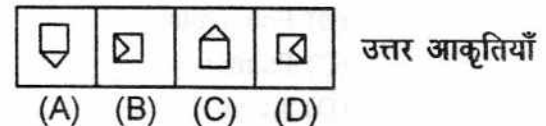
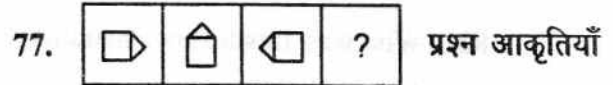
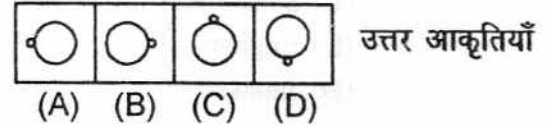
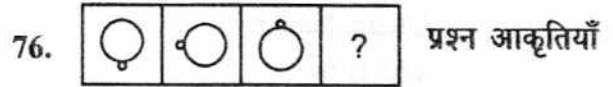
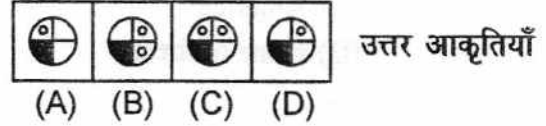
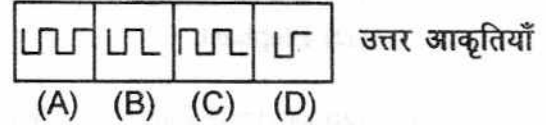
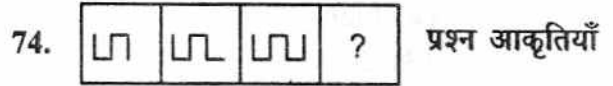
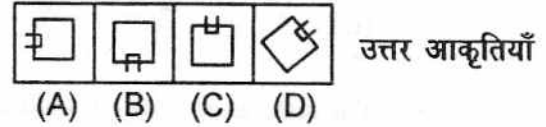
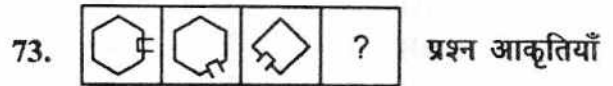
71. .... has launched the new Guaranteed Minimum Pension Scheme in Dehradun.  
 (A) Menaka Gandhi (B) Smriti Irani  
 (C) Dharmendra Pradhan (D) None of these
72. The state game of Uttarakhand is—  
 (A) Cricket (B) Badminton  
 (C) Hockey (D) None of these

Note : (Q. No. 73 to 77) Choose the correct figure from A, B, C, D in place of question mark (?) i.e. make a full series.



71. .... ने देहरादून में नई गारंटीकृत न्यूनतम पेंशन योजना का शुभारम्भ किया।  
 (A) मेनका गाँधी (B) स्मृति ईरानी  
 (C) धर्मेन्द्र प्रधान (D) इनमें से कोई नहीं
72. उत्तराखण्ड का राज्य खेल क्या है—  
 (A) क्रिकेट (B) बैडमिण्टन  
 (C) हॉकी (D) इनमें से कोई नहीं

निर्देश : (प्रश्न 73 से 77 तक) प्रत्येक प्रश्न में उस एक आकृति को चुनिए जो दी गई शृंखला को पूरा करेगी।



78. Match list I to List II—

List I		List II	
(Name of MLA)		(Constituency)	
(a) Dinesh Agrawal	(1) Khatima		
(b) Subodh Uniyal	(2) Dharchula		
(c) Pushkar Dhama	(3) Dharpur		
(d) Harish Rawat	(4) Narendra Nagar		

Code—

	(a)	(b)	(c)	(d)
(A)	3	4	1	2
(B)	1	3	4	2
(C)	4	3	1	2
(D)	4	3	2	1

79. The state animal of Uttarakhand is—

- (A) Lion
- (B) Cow
- (C) Kasturi Mrag
- (D) Elephant

80. Mil Mi-17 is a/an ..... helicopter.

- (A) Russian
- (B) Indian
- (C) American
- (D) None of these

81. The official state second language of Uttarakhand is—

- (A) Hindi
- (B) Sanskrit
- (C) English
- (D) Jaunsari

82. Who was Tapan Ray Chaudhary ?

- (A) Historian
- (B) Economist
- (C) Painter
- (D) Actor

78. सूची I का मिलान सूची II से कीजिए—

सूची I		सूची II	
(विधायक का नाम)		(विधान सभा)	
(a) दिनेश अग्रवाल	(1) खटीमा		
(b) सुबोध उनियाल	(2) धारचूला		
(c) पुष्कर धामी	(3) धर्मपुर		
(d) हरीश रावत	(4) नरेन्द्र नगर		

कूट—

	(a)	(b)	(c)	(d)
(A)	3	4	1	2
(B)	1	3	4	2
(C)	4	3	1	2
(D)	4	3	2	1

79. उत्तराखण्ड का राष्ट्रीय पशु है—

- (A) शेर
- (B) गाय
- (C) कस्तूरी मृग
- (D) हाथी

80. एम.आई.एल.एम.आई.-17 एक ..... हेलीकॉप्टर है—

- (A) रूसी
- (B) भारतीय
- (C) अमेरिकी
- (D) इनमें से कोई नहीं

81. उत्तराखण्ड की अधिकारिक द्वितीय राष्ट्र है—

- (A) हिन्दी
- (B) संस्कृत
- (C) अंग्रेजी
- (D) जौनसारी

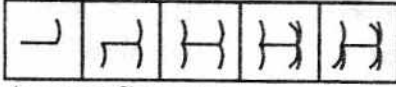
82. तपन राय चौधरी कौन थे ?

- (A) इतिहासकार
- (B) अर्थशास्त्री
- (C) चित्रकार
- (D) अभिनेता

Note : (Q. No. 83 to 87) Choose the right next figure from the answer figure which one is the next right figure for the question figure series.

नोट : (प्रश्न सं. 83 से 87 तक) निम्नलिखित हर प्रश्न में यदि क्रम जारी रहा तो दाहिनी ओर दी गई पाँच आकृतियों में से कौन सी उत्तर आकृति बाईं ओर की प्रश्न आकृतियों के तत्काल बाद आनी चाहिए ?

83. Question figures :

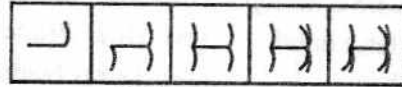


Answer figures :



(A) (B) (C) (D)

83. प्रश्न आकृतियाँ

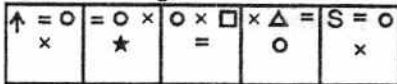


उत्तर आकृतियाँ

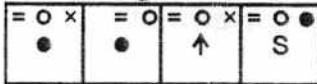


(A) (B) (C) (D)

84. Question figures :

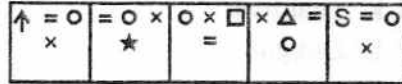


Answer figures :



(A) (B) (C) (D)

84. प्रश्न आकृतियाँ



उत्तर आकृतियाँ

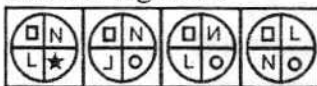


(A) (B) (C) (D)

85. Question figures :



Answer figures :




(A) (B) (C) (D)

85. प्रश्न आकृतियाँ

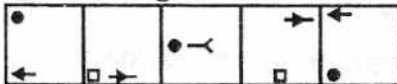


उत्तर आकृतियाँ

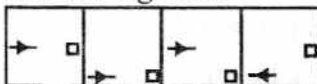


(A) (B) (C) (D)

86. Question figures :

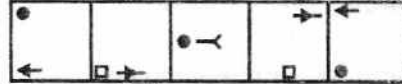


Answer figures :

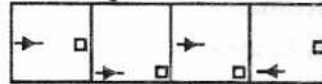


(A) (B) (C) (D)

86. प्रश्न आकृतियाँ



उत्तर आकृतियाँ

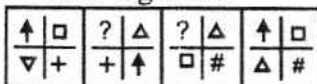


(A) (B) (C) (D)

87. Question figures :

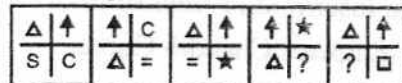


Answer figures :

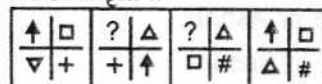


(A) (B) (C) (D)

87. प्रश्न आकृतियाँ



उत्तर आकृतियाँ

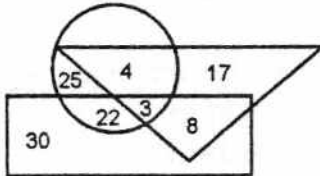


(A) (B) (C) (D)

88. Which is the highest peak of Uttarakhand—  
 (A) Trishul (B) Nanda Devi  
 (C) Chogori (D) Neelkanth
89. 'Operation Surya Hope' is related to which state—  
 (A) Uttarakhand (B) Uttar Pradesh  
 (C) Bihar (D) Tamil Nadu
90. Who was appointed as a Nodal Officer for Relief and Rescue operation in Uttarakhand—  
 (A) V. K. Joshi  
 (B) V. K. Sharma  
 (C) V. K. Thapliyal  
 (D) V. K. Duggal
91. Hon. Governor of Uttarakhand is appointed by—  
 (A) Chief Minister of Uttarakhand  
 (B) President of India  
 (C) Prime Minister of India  
 (D) Home Minister of India
92. Who led the Chipko Movement—  
 (A) Gaura Devi  
 (B) Chandi Prasad Bhatt  
 (C) Govind Ballabh Pant  
 (D) None of them
93. 'Ansuiya Prasad Bahuguna' is also known as—  
 (A) Gandhi of Uttarakhand  
 (B) Garh Keshari  
 (C) Vraksh Manav  
 (D) None of these
94. Kalsi Inscription is related to—  
 (A) Emperor Chandra Gupta  
 (B) Maurya Emperor  
 (C) Emperor Ashok  
 (D) None of them
88. उत्तराखण्ड की सबसे ऊँची चोटी है—  
 (A) त्रिशूल (B) नन्दा देवी  
 (C) चोगोरी (D) नीलकण्ठ
89. 'आपरेशन सूर्य होप' किस प्रदेश से सम्बन्धित है—  
 (A) उत्तराखण्ड (B) उत्तर प्रदेश  
 (C) बिहार (D) तमिलनाडु
90. उत्तराखण्ड में राहत एवं बचाव कार्य के लिए किसको नोडल अधिकारी के रूप में नियुक्त किया गया था—  
 (A) वी. के. जोशी  
 (B) वी. के. शर्मा  
 (C) वी. के. थपलियाल  
 (D) वी. के. दुग्गल
91. उत्तराखण्ड के मा. राज्यपाल को कौन नियुक्त करता है—  
 (A) उत्तराखण्ड के मुख्यमंत्री द्वारा  
 (B) राष्ट्रपति द्वारा  
 (C) प्रधानमंत्री द्वारा  
 (D) भारत के गृहमंत्री द्वारा
92. चिपको आन्दोलन का नेतृत्व किसने किया—  
 (A) गौरा देवी  
 (B) चंडी प्रसाद भट्ट  
 (C) गोविन्द बल्लभ पन्त  
 (D) इनमें से कोई नहीं
93. 'अनुसुइया प्रसाद बहुगुणा' को किस और नाम से जाना जाता है—  
 (A) उत्तराखण्ड के गाँधी के नाम से  
 (B) गढ़केसरी के नाम से  
 (C) वृक्ष मानव के नाम से  
 (D) इनमें से कोई नहीं
94. कालसी का शिलालेख किससे सम्बन्धित है—  
 (A) सम्राट चन्द्रगुप्त  
 (B) मौर्य सम्राट  
 (C) सम्राट अशोक  
 (D) इनमें से कोई नहीं

95. Name of Kumaon in Purana's—  
 (A) Kedarkhand  
 (B) Uttarakhand  
 (C) Uttranchal  
 (D) Manas Khand

Note : (Q. No. 96 to 100) Read the following figure and give suitable answer from given options.

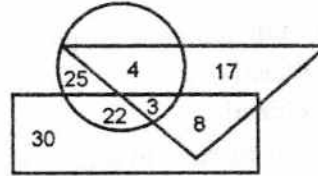


In figure triangle represents doctor, circle is represents players and rectangle is represents artist, then—

96. How many artists and players are doctors—  
 (A) 6 (B) 8  
 (C) 4 (D) 3
97. How many artists are players—  
 (A) 30 (B) 29  
 (C) 25 (D) None of these
98. How many artists are there who are neither players nor doctors—  
 (A) 29 (B) 30  
 (C) 22 (D) 8
99. How many doctors are there who are neither player nor artists ?  
 (A) 17 (B) 30  
 (C) 8 (D) 17
100. How many players are there who are neither artist nor doctor—  
 (A) 22 (B) 4  
 (C) 25 (D) 3

95. पुराणों में कुमाऊँ को किस नाम से जाना जाता था—  
 (A) केदारखण्ड  
 (B) उत्तराखण्ड  
 (C) उत्तरांचल  
 (D) मानसखण्ड

नोट : (प्रश्न सं. 96 से 100 तक) प्रत्येक प्रश्न के लिए निम्नांकित आकृति का अध्ययन करो और उचित उत्तर दो।



इसमें त्रिभुज डॉक्टरों को, वृत्त खिलाड़ियों को तथा आयत कलाकारों को प्रदर्शित करता है।

96. कितने कलाकार एवं खिलाड़ी डॉक्टर हैं ?  
 (A) 6 (B) 8  
 (C) 4 (D) 3
97. कितने कलाकार खिलाड़ी हैं—  
 (A) 30 (B) 29  
 (C) 25 (D) इनमें से कोई नहीं
98. कितने कलाकार ऐसे हैं जो न तो खिलाड़ी हैं और न डॉक्टर—  
 (A) 29 (B) 30  
 (C) 22 (D) 8
99. कितने डॉक्टर ऐसे हैं जो न तो खिलाड़ी हैं और न कलाकार ?  
 (A) 17 (B) 30  
 (C) 8 (D) 17
100. कितने खिलाड़ी ऐसे हैं जो न तो कलाकार हैं और न डॉक्टर—  
 (A) 22 (B) 4  
 (C) 25 (D) 3

**PART-2 (Commerce) / भाग - 2 (कामर्स)**  
**(Q. No. 101 to 200) / (प्रश्न संख्या 101 से 200 तक)**

- 101.** Accounting equation is based on—  
 (A) Cost concept  
 (B) Separate entity concept  
 (C) Accral concept  
 (D) Dual aspect concept
- 102.** Accounting principle are generally based on—  
 (A) Objectivity  
 (B) Subjectivity  
 (C) Convenience in recording  
 (D) None of these
- 103.** Outstanding expenses is a—  
 (A) Real account  
 (B) Nominal account  
 (C) Personal account  
 (D) None of these
- 104.** Furniture purchased from Mukesh for personal use, which of the two accounts will be affected—  
 (A) Both real accounts  
 (B) Both personal accounts  
 (C) One personal account and one real account  
 (D) None of these
- 105.** There will be 'flow of fund' when—  
 (A) Goods is purchased for cash  
 (B) Machine is sold for cash  
 (C) Cash is collected from debtors  
 (D) Cash is paid to creditors
- 106.** Cost of goods sold is Rs. 120000 and gross loss  $\frac{1}{4}$  of sales. The amount of sales will be—  
 (A) Rs. 100000  
 (B) Rs. 90000  
 (C) Rs. 96000  
 (D) None of these
- 101.** लेखा समीकरण आधारित है—  
 (A) लागत अवधारणा पर  
 (B) पृथक अस्तित्व अवधारणा पर  
 (C) उपार्जित अवधारणा पर  
 (D) द्वि-पक्ष अवधारणा पर
- 102.** लेखांकन सिद्धान्त सामान्यतया आधारित होते हैं—  
 (A) वस्तुपरकता पर  
 (B) व्यक्तिपरकता पर  
 (C) दर्ज करने की सुविधा पर  
 (D) उपरोक्त में कोई नहीं
- 103.** अदत्त व्यय है—  
 (A) वास्तविक खाता  
 (B) नाममात्र खाता  
 (C) व्यक्तिगत खाता  
 (D) इनमें से कोई नहीं
- 104.** मुकेश से निजी उपयोग के लिए फर्नीचर क्रय कर पर इस व्यवहार से प्रभावित होने वाले दो खातों होंगे—  
 (A) दोनों वास्तविक खाते  
 (B) दोनों व्यक्तिगत खाते  
 (C) एक व्यक्तिगत खाता एवं एक वास्तविक खाता  
 (D) इनमें से कोई नहीं
- 105.** 'कोष प्रवाह' होगा—  
 (A) माल नकद क्रय करने पर  
 (B) मशीन का नकद में विक्रय करने पर  
 (C) देनदारों से नकद संग्रह पर  
 (D) लेनदारों को नकद चुकाने पर
- 106.** विक्रय किये गये माल की लागत रु. 120000 है तथा सकल हानि विक्रय का  $\frac{1}{4}$  है। विक्रय की राशि होगी—  
 (A) रु. 100000  
 (B) रु. 90000  
 (C) रु. 96000  
 (D) इनमें से कोई नहीं

107. "Indian Trade Promotion Organization" was set up in 1992 by merging—  
 (A) Mica Trading Corporation and Tea Trading Corporation  
 (B) Trade Development Authority and Trade Fair Authority of India  
 (C) ECGC and Export-Import Bank of India  
 (D) None of these
108. Which of the following is a type of symbolic economic models ?  
 (A) Quantitative Models  
 (B) Allocation Models  
 (C) Inventory Model  
 (D) All the above
109. Which of the following is included in the psychological factors of consumer behaviour ?  
 (A) Learning (B) Beliefs  
 (C) A & B both (D) None of these
110. Choose incorrect combination—  
 (A) GDP at factor cost — Depreciation — NNP at market cost  
 (B) GNP at factor cost — Depreciation — NNP at factor cost  
 (C) GDP at market price — Net indirect tax — GDP at factor cost  
 (D) None of these
111. Which of the following is/are constant of binomial distribution ?  
 (A)  $\bar{X} = np$  (B)  $\sigma = \sqrt{npq}$   
 (C)  $\mu_1 = 0, \mu_2 = npq$  (D) All the above
112. KYC norms for opening bank account have been eased by RBI now ..... proof of address can be used to open a bank account.  
 (A) Double document  
 (B) Triple document  
 (C) Single document  
 (D) No proof
107. 1992 में स्थापित "भारतीय व्यापार प्रोत्साहन संगठन" की स्थापना निम्न में से किन के विलय से हुई—  
 (A) अन्नक व्यापार निगम एवं चाय व्यापार निगम  
 (B) व्यापार विकास प्राधिकरण एवं भारतीय व्यापार मेला प्राधिकरण  
 (C) ई.सी.जी.सी. एवं भारतीय निर्यात-आयात बैंक  
 (D) इनमें से कोई नहीं
108. निम्नलिखित में से कौन सा प्रतिकात्मक (संकेतात्मक) आर्थिक मॉडल का प्रकार है ?  
 (A) मात्रात्मक मॉडल  
 (B) आवंटन मॉडल  
 (C) चल सम्पत्ति मॉडल  
 (D) उपरोक्त सभी
109. निम्न में से कौन सा घटक उपभोक्ता व्यवहार के मनोवैज्ञानिक घटकों में शामिल हैं ?  
 (A) अधिगम (B) विश्वास  
 (C) A और B दोनों (D) इनमें से कोई नहीं
110. गलत युग्म का चयन कीजिए—  
 (A) साधन लागत पर GDP — मूल्य हास — बाजार मूल्य पर NNP  
 (B) साधन लागत पर GNP — मूल्य हास — साधन लागत पर NNP  
 (C) बाजार मूल्य पर GDP — शुद्ध अप्रत्यक्ष कर — साधन लागत पर GDP  
 (D) इनमें से कोई नहीं
111. निम्नांकित में से कौन-से द्विपद बंटन के अचर मूल्य है/हैं ?  
 (A)  $\bar{X} = np$  (B)  $\sigma = \sqrt{npq}$   
 (C)  $\mu_1 = 0, \mu_2 = npq$  (D) उपरोक्त सभी
112. भारतीय रिजर्व बैंक द्वारा बैंक खाता खोलने के लिए के. वाई. सी. मानदण्डों में ढील दी गई है। अब एक बैंक खाता खोलने के लिए ....., पते के सबूत का इस्तेमाल किया जा सकता है।  
 (A) दो दस्तावेज  
 (B) तीन दस्तावेज  
 (C) एक दस्तावेज  
 (D) कोई सबूत नहीं

113. The Tax Administration Reform Commission (TARC) submitted its report to the Union Ministry of Finance. Who is the head of this committee ?  
 (A) M.B. Shah (B) Duvuri Subbarao  
 (C) Parthsarthi Shome (D) P. Sathasivam
114. .... to become 19th country to adopt Euro as currency from 1 January 2015.  
 (A) Niger (B) Lithuania  
 (C) Slovakia (D) Liberia
115. New ATM installed by RBI with Braille keypad, called—  
 (A) Speaking ATM (B) Talking ATM  
 (C) Interacting ATM (D) Both A & C
116. The RBI will shortly issue ..... denomination bank notes incorporating rupee symbol with inset letter R, in the Mahatma Gandhi Series - 2005 bearing the signature of Raghuram G. Rajan, Governor.  
 (A) Rs. 1000 (B) Rs. 100  
 (C) Rs. 50 (D) Rs. 20
117. Expand NAFED—  
 (A) National Agricultural Coorporative Marketing Federation  
 (B) New Authority for Financial and Economy Development  
 (C) National Authority for Cooperation in Economy Development  
 (D) None of these
118. What is the minimum annual investment in PPF ?  
 (A) Rs. 1000 (B) Rs. 450  
 (C) Rs. 500 (D) Rs. 150000
119. Which of the following bank has celebrated 150 years of operation in Sri Lanka ?  
 (A) Punjab National Bank  
 (B) State Bank of India  
 (C) Bank of Baroda  
 (D) Allahabad Bank
113. कर प्रशासन सुधार आयोग (TARC) ने वित्त मन्त्रालय को अपनी रिपोर्ट सौंपी है। इस समिति के अध्यक्ष कौन हैं ?  
 (A) एम.बी. शाह (B) डुवुरी सुब्बाराव  
 (C) पार्थसार्थी शोम (D) पी. सदाशिवम
114. ...., 1 जनवरी 2015 से मुद्रा के रूप में यूरो को अपनाने वाला 19वाँ देश बन गया है।  
 (A) नाइजर (B) लिथुआनिया  
 (C) स्लोवाकिया (D) लाइबेरिया
115. ब्रेल की पैड के साथ भारतीय रिजर्व बैंक द्वारा स्थापित नए एटीएम ..... कहलाते हैं।  
 (A) स्पीकिंग एटीएम (B) टॉकिंग एटीएम  
 (C) इण्टरएक्टिंग एटीएम (D) A और C दोनों
116. भारतीय रिजर्व बैंक शीघ्र ही, इंसेट अक्षर R के साथ रुपये के प्रतीक सहित गवर्नर रघुराम जी राजन के हस्ताक्षर वाले महात्मा गाँधी शृंखला-2005 के ..... मूल्यमान वाले बैंक नोट जारी करेगा।  
 (A) रु. 1000 (B) रु. 100  
 (C) रु. 50 (D) रु. 20
117. NAFED का विस्तार कीजिए—  
 (A) राष्ट्रीय कृषि सहकारी विपणन संघ  
 (B) वित्तीय एवं आर्थिक विकास हेतु नया प्राधिकरण  
 (C) आर्थिक विकास में सहयोग हेतु राष्ट्रीय प्राधिकरण  
 (D) इनमें से कोई नहीं
118. पी. पी. एफ. में न्यूनतम वार्षिक निवेश क्या है ?  
 (A) रु. 1000 (B) रु. 450  
 (C) रु. 500 (D) रु. 150000
119. निम्नलिखित बैंक में से किसने श्रीलंका में संचालन के 150 साल का जश्न मनाया है ?  
 (A) पंजाब नेशनल बैंक  
 (B) भारतीय स्टेट बैंक  
 (C) बैंक ऑफ बड़ौदा  
 (D) इलाहाबाद बैंक

120. Which of the following banks has started 'Smart Star' account—  
 (A) HDFC Bank (B) ICICI Bank  
 (C) Axis Bank (D) HSBC Bank
121. As per the issued guidelines, the minimum paid up equity capital for small finance banks shall be—  
 (A) 100 crore rupees (B) 50 crore rupees  
 (C) 500 crore rupees (D) None of these
122. The classical economists defined economics as—  
 (A) The Science of Scarcity  
 (B) The Science of welfare  
 (C) The Science of wealth  
 (D) None of above
123. In which economic system all the meaning production are owned & controlled by private individuals for profit—  
 (A) Capitalism (B) Communism  
 (C) Mixed economy (D) None of these
124. Contraction of demand is the result of—  
 (A) Decrease in the member of consumers  
 (B) Decrease in the income of purchaser  
 (C) Increase in the price of goods concerned  
 (D) None of these
125. Who is known as father of "Operation Flood"—  
 (A) Dr. M. S. Swaminathan  
 (B) Dr. Rajendra Singh  
 (C) Dr. Ravi Chopra  
 (D) Dr. Verghese Kurien
126. India's wage policy is based on—  
 (A) Cost of living  
 (B) Standard of living  
 (C) Productivity  
 (D) Environment of living

120. निम्नलिखित बैंकों में से किसने "स्मार्ट स्टार" खाता शुरू किया है—  
 (A) एचडीएफसी बैंक (B) आईसीआईसीआई बैंक  
 (C) ऐक्सिस बैंक (D) एचएसबीसी बैंक
121. जारी दिशा निर्देशों के अनुसार लघु वित्त बैंकों के लिए न्यूनतम चुकता इक्विटी पूँजी ..... होगी।  
 (A) 100 करोड़ रुपये (B) 50 करोड़ रुपये  
 (C) 500 करोड़ रुपये (D) इनमें से कोई नहीं
122. क्लासिकल अर्थशास्त्रियों ने अर्थशास्त्र को परिभाषित किया है—  
 (A) अभावग्रस्तता का विज्ञान  
 (B) कल्याण का विज्ञान  
 (C) संपत्ति का विज्ञान  
 (D) उपरोक्त में कोई नहीं
123. निम्न में से किस अर्थव्यवस्था में उत्पादन के समस्त संसाधन लाभ के लिए निजी व्यक्ति द्वारा स्वामित्व तथा नियंत्रित किए जाते हैं—  
 (A) पूँजीवाद (B) साम्यवाद  
 (C) मिश्रित अर्थव्यवस्था (D) इनमें से कोई नहीं
124. माँग संकुचन इनमें से किसका परिणाम होता है—  
 (A) उपभोक्ताओं की संख्या में कमी होना  
 (B) उपभोक्ता की आय में कमी होना  
 (C) संबंधित वस्तु की कीमत में बढ़ोत्तरी होना  
 (D) इनमें से कोई नहीं
125. "ऑपरेशन फ्लड" के जनक के रूप में इनमें से किन्हें जाना जाता है—  
 (A) डॉ. एम. एस. स्वामीनाथन  
 (B) डॉ. राजेन्द्र सिंह  
 (C) डॉ. रवि चोपड़ा  
 (D) डॉ. वर्गीज कुरियन
126. भारत की मजदूरी नीति निम्न में से किस पर आधारित है—  
 (A) निर्वाह खर्च  
 (B) निर्वाह के स्तर  
 (C) उत्पादकता  
 (D) निर्वहन का वातावरण

127. Which of the following is not a method of estimating national income ?  
 (A) Value-added method  
 (B) Export-import method  
 (C) Income method  
 (D) Expenditure method
128. In India, which is not a direct tax ?  
 (A) Income tax (B) Wealth tax  
 (C) Estate tax (D) Trade tax
129. In India the supply & printing of paper currency is done by—  
 (A) Security Press, Mumbai  
 (B) Security Press, Nasik  
 (C) Reserve Bank of India, New Delhi  
 (D) Security Press, Noida
130. Which of the following is not an objective of the monetary policy of RBI—  
 (A) Control Inflationary Pressure  
 (B) Ensure Social Justice  
 (C) Direct Credit in Desirable Direction  
 (D) Boost Economic Development
131. Which of the following is not advantage of 'Computerised Accounting Systems' ?  
 (A) Accuracy  
 (B) Storage and retrieval  
 (C) Quality report  
 (D) Staff opposition
132. If the value of mean ( $\bar{X}$ ) = 5 and mode (Z) = 5, the value of median will be—  
 (A) 5 (B) 10  
 (C) 15 (D) 20
133. Mean deviation is equal to—  
 (A) 5/6 Standard Deviation  
 (B) 2/3 Standard Deviation  
 (C) 4/5 Standard Deviation  
 (D) None of these
127. राष्ट्रीय आय निर्धारण की इनमें से कौन सी विधि नहीं है ?  
 (A) मूल्य वर्धित विधि  
 (B) आयात-निर्यात विधि  
 (C) आय विधि  
 (D) व्यय विधि
128. भारत में निम्न में से कौन सा प्रत्यक्ष कर नहीं है ?  
 (A) आयकर (B) संपत्ति कर  
 (C) संपदा कर (D) व्यापार कर
129. भारत में कागजी मुद्रा का मुद्रण तथा आपूर्ति की जाती है—  
 (A) सिक्कुरिटी प्रेस, मुम्बई  
 (B) सिक्कुरिटी प्रेस, नासिक  
 (C) भारतीय रिजर्व बैंक, नई दिल्ली  
 (D) सिक्कुरिटी प्रेस, नोएडा
130. निम्न में से कौन भारतीय रिजर्व बैंक की मौद्रिक नीति का उद्देश्य नहीं है—  
 (A) स्फीति दबाव का नियंत्रण  
 (B) सामाजिक न्याय सुनिश्चित करना  
 (C) एषणीय दिशा में सीधा क्रेडिट  
 (D) आर्थिक विकास को बढ़ावा देना
131. 'कम्प्यूटराइज लेखांकन प्रणाली' का निम्न में से कौन सा लाभ नहीं है ?  
 (A) परिशुद्धता  
 (B) भण्डारण एवं पुनः प्राप्ति  
 (C) गुणवत्तापूर्ण प्रतिवेदन  
 (D) स्टाफ का विरोध
132. यदि माध्य का मान ( $\bar{X}$ ) = 5 और बहुलक (Z) = 5 है, तो माध्यिका का मान होगा—  
 (A) 5 (B) 10  
 (C) 15 (D) 20
133. माध्य विचलन समान हैं—  
 (A) 5/6 प्रमाप विचलन के  
 (B) 2/3 प्रमाप विचलन के  
 (C) 4/5 प्रमाप विचलन के  
 (D) इनमें से कोई नहीं

134. Which is best average used in the construction of index numbers ?  
 (A) Median (B) Arithmetic mean  
 (C) Harmonic mean (D) Geometric mean
135. Which is not included in financial statements ?  
 (A) Director's Report  
 (B) Balance Sheet  
 (C) Profit and Loss Account  
 (D) None of these
136. Which technique is not a financial analysis technique ?  
 (A) Break-even analysis  
 (B) Cash flow analysis  
 (C) Fund flow analysis  
 (D) None of these
137. Analog models are used for—  
 (A) Physics (B) Economics  
 (C) Botany (D) None of these
138. 'Served from India' scheme is related to—  
 (A) Export (B) Import  
 (C) Export-Import (D) None of these
139. In India National Income is calculated by—  
 (A) Indian Institute of Technology  
 (B) Central Statistical Organization  
 (C) Finance Commission  
 (D) None of these
140. Working Capital of a Company is Rs. 21,28,000 and total debts are Rs. 42,50,000. If the company's long term debts are Rs. 27,30,000, then current ratio will be—  
 (A) 0.78 : 1 (B) 1.4 : 1  
 (C) 1.14 : 1 (D) 2.4 : 1
141. Addition theorem is applicable when—  
 (A) Events are mutually exclusive  
 (B) Events are independent  
 (C) Events are dependent  
 (D) None of these
134. सूचकांकों को बनाने में कौन सा श्रेष्ठ माध्य प्रयोग किया जाता है ?  
 (A) माध्यिका (B) समान्तर माध्य  
 (C) हरात्मक माध्य (D) गुणोत्तर माध्य
135. वित्तीय विवरणों में निम्न में से कौन सा सम्मिलित नहीं है ?  
 (A) संचालकों का प्रतिवेदन  
 (B) चिट्ठा  
 (C) लाभ-हानि खाता  
 (D) इनमें से कोई नहीं
136. निम्न में से वित्तीय विश्लेषण तकनीक कौन सी नहीं है ?  
 (A) सम-विच्छेद विश्लेषण  
 (B) रोकड़ प्रवाह विश्लेषण  
 (C) कोष प्रवाह विश्लेषण  
 (D) इनमें से कोई नहीं
137. एनालोग मॉडल्स उपयोग किये जाते हैं—  
 (A) भौतिक शास्त्र (B) अर्थशास्त्र में  
 (C) बनस्पति शास्त्र में (D) इनमें से कोई नहीं
138. 'सर्वड फ्रॉम इण्डिया' स्कीम सम्बन्धित है—  
 (A) निर्यात (B) आयात  
 (C) निर्यात-आयात (D) इनमें से कोई नहीं
139. भारत में राष्ट्रीय आय की गणना ..... की जाती है।  
 (A) भारतीय प्रौद्योगिकी संस्थान द्वारा  
 (B) केन्द्रीय सांख्यिकीय संगठन द्वारा  
 (C) वित्त आयोग द्वारा  
 (D) इनमें से कोई नहीं
140. कार्यशील पूँजी 21,28,000 रु. तथा कुल ऋण 42,50,000 रु. हैं। यदि कम्पनी के दीर्घकालीन ऋण 27,30,000/- हो तो चालू अनुपात क्या होगा ?  
 (A) 0.78 : 1 (B) 1.4 : 1  
 (C) 1.14 : 1 (D) 2.4 : 1
141. योग प्रमेय लागू होता है—  
 (A) घटनाएँ परस्पर अपवर्जी हों  
 (B) घटनाएँ स्वतंत्र हों  
 (C) घटनाएँ निर्भर हों  
 (D) इनमें से कोई नहीं

SET-A

142. In a question of correlation the value of  $r$  is 0.64 and its probable error is 0.1312. Find the value of  $N$ —  
 (A) 3 (B) 9  
 (C) 36 (D) None of these

143. The function of attracting, retaining and developing human resources in an organization is called—  
 (A) Recruitment (B) Induction  
 (C) Talent Management (D) Training

144. The managerial function of staffing is most closely related to—  
 (A) Organising (B) Marketing  
 (C) Training (D) None of these

145. Choose correct sentences—  
 (A) Advertising plays a vital role in selling products/services — True  
 (B) Advertising plays no role in selling products — True  
 (C) Sales promotion is complete without a good advertising plan — True  
 (D) None of these

146. Match list I to List II—

	List I	List II		
	(a) Peter F. Drucker	(1) M.B.O.		
	(b) F. W. Taylor	(2) Scientific Management		
	(c) Henri J. Fayol	(3) Universal Principle of Management		
	(d) Hugo Munsterberg	(4) Functional theory		
Code—	(a)	(b)	(c)	(d)
(A)	4	3	2	1
(B)	1	2	3	4
(C)	3	4	2	1
(D)	3	1	4	2

147. Who has introduced the "Seven Point Plan" for taking the best interview method ?  
 (A) Prof. P. K. Pant (B) Prof. Taylor  
 (C) Prof. A. Rozar (D) None of these

142. सहसम्बन्ध के एक प्रश्न में,  $r$  का मूल्य 0.64 तथा सम्भाव्य विभ्रम 0.1312 है।  $N$  का मान ज्ञात कीजिए—  
 (A) 3 (B) 9  
 (C) 36 (D) इनमें से कोई नहीं

143. किसी संगठन में मानव संसाधन को आकर्षित करना, प्रतिधारण किये रहना और विकास करने के कार्य को कहते हैं—  
 (A) भर्ती (B) अधिष्ठापन  
 (C) कौशल प्रबन्धन (D) प्रशिक्षण

144. कर्मचारी भर्ती (स्टाफिंग) का प्रबन्धकीय कार्य सर्वाधिक घनिष्ठ रूप से सम्बन्धित है—  
 (A) संगठन (B) विपणन  
 (C) प्रशिक्षण (D) इनमें से कोई नहीं

145. सही वाक्य का चयन कीजिए—  
 (A) वस्तुओं/सेवाओं की बिक्री में विज्ञापन महत्वपूर्ण भूमिका निभाता है — सत्य है  
 (B) वस्तुओं की बिक्री में विज्ञापन की कोई भूमिका नहीं है — सत्य है  
 (C) उत्तम विज्ञापन योजना के बिना विक्रय संवर्द्धन पूरा है — सत्य है  
 (D) इनमें से कोई नहीं

146. सूची I का मिलान सूची II से कीजिए—

	सूची I	सूची II
(a)	पीटर एफ. ड्रकर	(1) एम.बी.ओ.
(b)	एफ. डब्ल्यू. टेलर	(2) वैज्ञानिक प्रबन्ध
(c)	हेनरी जे. फेयोल	(3) प्रबन्ध के सार्वभौमिक सिद्धान्त
(d)	ह्यूगो मस्टरबर्ग	(4) क्रियात्मक सिद्धान्त

कूट—	(a)	(b)	(c)	(d)
(A)	4	3	2	1
(B)	1	2	3	4
(C)	3	4	2	1
(D)	3	1	4	2

147. साक्षात्कार लेने की सर्वश्रेष्ठ 'सात बिन्दु योजना' का प्रतिपादन किसने किया ?  
 (A) प्रो. पी. के. पन्त (B) प्रो. टेलर  
 (C) प्रो. ए. रोजर (D) इनमें से कोई नहीं

148. The first established presidency bank in India was—  
 (A) Eastern Bank (B) Allahabad Bank  
 (C) Bank of Madras (D) Bank of Bengal
149. AS-25 is related to—  
 (A) Intangible Assets  
 (B) Interim financial reporting  
 (C) Borrowing costs  
 (D) None of these
150. The new definition of fiscal deficit was suggested by—  
 (A) Chakravarty Committee  
 (B) Kelkar Committee  
 (C) Rangrajan Committee  
 (D) None of these
151. The functions & powers of the centre & the state are laid down in the Constitution in—  
 (A) Article 51 (B) Article 113  
 (C) Article 240 (D) Article 246
152. Which one of the following would be considered an example of "Dirty Subsidy"?  
 (A) Mid Day Meals Programme  
 (B) Subsidy on Diesel  
 (C) Money spent on sanitation programme  
 (D) None of these
153. During the colonial period, British capital was invested primarily in—  
 (A) Agriculture (B) Industry  
 (C) Infrastructure (D) Tourism
154. "World Investment Report" is an annual publication of—  
 (A) WTO  
 (B) IMF  
 (C) World Bank  
 (D) UNCTAD
148. भारत में प्रथम स्थापित प्रेसीडेंसी बैंक था—  
 (A) पूर्वी बैंक (B) इलाहाबाद बैंक  
 (C) बैंक ऑफ मद्रास (D) बैंक ऑफ बंगाल
149. लेखा मानक-25 सम्बन्धित है—  
 (A) अमूर्त सम्पत्तियाँ  
 (B) अन्तरिम वित्तीय प्रतिवेदन  
 (C) उधार लागतें  
 (D) इनमें से कोई नहीं
150. वित्तीय घाटे की नई परिभाषा का सुझाव दिया गया था—  
 (A) चक्रवर्ती समिति  
 (B) केलकर समिति  
 (C) रंगराजन समिति  
 (D) इनमें से कोई नहीं
151. केन्द्र एवं राज्यों के अधिकार एवं कर्तव्य संविधान की इस धारा में अंतर्निहित किए गए हैं—  
 (A) धारा 51 (B) धारा 113  
 (C) धारा 240 (D) धारा 246
152. निम्न में से किसे अस्वच्छ सहायिकी का उदाहरण माना जाएगा—  
 (A) मिड डे मील योजना  
 (B) डीजल पर सहायिकी  
 (C) स्वच्छता अभियान पर व्यय किया गया धन  
 (D) इनमें से कोई नहीं
153. उपनिवेशवाद अवधि में ब्रिटिश पूँजी प्रथमतः निवेश की गई थी—  
 (A) कृषि में (B) उद्योग में  
 (C) संरचना में (D) पर्यटन में
154. "विश्व निवेश प्रतिवेदन" एक इनका वार्षिक प्रकाशन है—  
 (A) WTO  
 (B) IMF  
 (C) विश्व बैंक  
 (D) UNCTAD

155. Which of the following taxes, though imposed by centre, yet not shared between states & centre—

- (1) Income Tax  
 (2) Union Excise Duties  
 (3) Custom Duties  
 (4) Corporation Tax

- (A) 1, 2 & 3 (B) 2, 3 & 4  
 (C) 3 & 4 (D) 1, 3 & 4

156. According to 2011 census the percentage of urban population is approximately—

- (A) 21% (B) 25%  
 (C) 28% (D) 37%

157. Which of the following programmes is aimed for improvement in quality & accessibility to secondary education in India—

- (A) Navodaya Vidyalaya  
 (B) Mid-day Meal Programme  
 (C) Rashtriya Madhyamik Shiksha Abhiyan  
 (D) Kasturba Gandhi Girl's School

158. 'Planned Economy for India' (1934) was the work of—

- (A) Shriman Narayan  
 (B) M. Vishveswaraya  
 (C) Amartya Sen  
 (D) None of above

159. IRDA Act was passed in the year—

- (A) 1987 (B) 1993  
 (C) 1999 (D) 2009

160. In STP concept 'S' means—

- (A) Segmentation (B) Society  
 (C) Service (D) Selling

161. Brand value for a business is—

- (A) Capital (B) Asset  
 (C) Profit (D) None of these

155. कौन से कर केन्द्र सरकार द्वारा आरोपित किए जाते हैं, किन्तु केन्द्र तथा राज्यों के मध्य विभाजित नहीं किए गये—

- (1) आय कर  
 (2) संघीय उत्पाद शुल्क  
 (3) सीमा शुल्क  
 (4) निगम कर

- (A) 1, 2 एवं 3 (B) 2, 3 एवं 4  
 (C) 3 एवं 4 (D) 1, 3 एवं 4

156. 2011 की जनगणना के अनुसार भारत की शहरी जनसंख्या का अनुमानित प्रतिशत है—

- (A) 21% (B) 25%  
 (C) 28% (D) 37%

157. निम्नांकित में से कौन सी योजना माध्यमिक शिक्षा तक पहुँच और उसकी गुणवत्ता में सुधार हेतु लक्षित है—

- (A) नवोदय विद्यालय  
 (B) मध्याह्न भोजन कार्यक्रम  
 (C) राष्ट्रीय माध्यमिक शिक्षा अभियान  
 (D) कस्तूरबा गाँधी बालिका विद्यालय

158. 'Planned Economy for India' (1934) इनमें से किसकी कृति है—

- (A) श्रीमन नारायण  
 (B) एम. विश्वेश्वरय्या  
 (C) अमर्त्य सेन  
 (D) इनमें से कोई नहीं

159. आई.आर.डी.ए. अधिनियम पारित किया गया था—

- (A) 1987 (B) 1993  
 (C) 1999 (D) 2009

160. एस.टी.पी. विचारधारा में 'S' का तात्पर्य है—

- (A) खण्डीकरण (B) समाज  
 (C) सेवा (D) विक्रय

161. एक व्यवसाय के लिए ब्रांड मूल्य होता है—

- (A) पूँजी (B) सम्पत्ति  
 (C) लाभ (D) इनमें से कोई नहीं

162. The policy of keeping price Rs. 99 instead of Rs. 100 is known as—

- (A) Product Line Pricing Policy  
(B) Skim the Cream Pricing Policy  
(C) Market Penetration Pricing Policy  
(D) Psychological Pricing Policy

163. Popular software used in accounting and finance—

- (A) DBMS (B) Tally  
(C) MS Excel (D) None of these

164. The second 'P' in marketing mix is—

- (A) Price (B) Product  
(C) Place (D) Promotion

165. Theory 'X' and Theory 'Y' was developed by—

- (A) Chris Argyris (B) McGrager  
(C) Herzberg (D) None of these

166. If  $x_1, x_2, \dots, x_{18}$  are observations such that

$$\sum_{j=1}^{18} (x_j - 8) = 9 \text{ and } \sum_{j=1}^{18} (x_j - 8)^2 = 45, \text{ then the}$$

standard deviation of these observation is—

- (A)  $\sqrt{\frac{81}{34}}$  (B) 5  
(C)  $\sqrt{5}$  (D)  $\frac{3}{2}$

167. The Laffer curve explains the relationship between which of the following—

- (A) Tax rates and employment  
(B) Tax rates and income  
(C) Tax rates and tax revenue  
(D) Tax rates and public expenditure

168. WTO headquarter is located at—

- (A) Geneva (B) Paris  
(C) Hague (D) Washington D.C.

162. रु. 100 के स्थान पर रु. 99 मूल्य रखने की नीति कहलाती है—

- (A) उत्पाद शृंखला मूल्य नीति  
(B) मलाई उतारने वाली मूल्य नीति  
(C) बाजार भेदन मूल्य नीति  
(D) मनोवैज्ञानिक मूल्य नीति

163. लेखा एवं वित्त में सर्वाधिक प्रयुक्त साफ्टवेयर है—

- (A) डीबीएमएस (B) टैली  
(C) एम एस एक्सेल (D) इनमें से कोई नहीं

164. विपणन मिश्रण में द्वितीय 'P' है—

- (A) मूल्य (B) उत्पाद  
(C) स्थान (D) संवर्द्धन

165. सिद्धान्त 'X' एवं सिद्धान्त 'Y' का प्रतिपादन किया—

- (A) क्रिस अर्गिस ने (B) मेकग्रेगर ने  
(C) हर्जबर्ग ने (D) इनमें से कोई नहीं

166. यदि  $x_1, x_2, \dots, x_{18}$  प्रेक्षण इस प्रकार है कि

$$\sum_{j=1}^{18} (x_j - 8) = 9 \text{ तथा } \sum_{j=1}^{18} (x_j - 8)^2 = 45, \text{ तब इन}$$

प्रेक्षणों का मानक विचलन है—

- (A)  $\sqrt{\frac{81}{34}}$  (B) 5  
(C)  $\sqrt{5}$  (D)  $\frac{3}{2}$

167. लेफर वक्र निम्नांकित में से किनके बीच सम्बन्ध को दर्शाता है—

- (A) कर दर एवं रोजगार  
(B) कर दर एवं आय  
(C) कर दर एवं कर आय  
(D) कर दर एवं सार्वजनिक व्यय

168. डब्ल्यू.टी.ओ. का मुख्यालय कहाँ स्थित है—

- (A) जिनेवा (B) पेरिस  
(C) हेग (D) वाशिंगटन डी.सी.

169. Performing assets means—  
 (A) Money at call & short notices  
 (B) Cash balance  
 (C) Cash balance with bank  
 (D) None of these
170. Infrastructure in economy consists—  
 (A) Transport (B) Communication  
 (C) Banking (D) All of these
171. All the business activities fall under the category—  
 (A) Industry (B) Commerce  
 (C) Trade (D) All of these
172. The average revenue curve of a firms is also known as—  
 (A) Loss curve (B) Income curve  
 (C) Demand curve (D) Profit curve
173. In statistics, the square root coefficient of determination is called—  
 (A) Coefficient of correlation  
 (B) Coefficient of determination  
 (C) Coefficient of alienation  
 (D) All of these
174. Clause 49 of the listing agreement as directed by Securities & Exchange Board of India, deals with—  
 (A) Corporate ethics  
 (B) Corporate Governance  
 (C) Corporate responsibility  
 (D) None of these
175. Which one of the following is not the four principles of coordination as suggested by Mary Parker Follett—  
 (A) Early Stage  
 (B) Continuity  
 (C) Direct contact  
 (D) Planning
169. निष्पादन संपत्ति का अर्थ है—  
 (A) काल करने तथा कम समय में उपलब्ध धन  
 (B) अवशेष कैश  
 (C) बैंक में रखा अवशेष कैश  
 (D) इनमें से कोई नहीं
170. अर्थशास्त्र में बुनियादी सुविधा का तात्पर्य है—  
 (A) परिवहन (B) संचार  
 (C) बैंकिंग (D) उपरोक्त सभी
171. व्यवसाय की समस्त क्रियाएँ निम्न में से किस श्रेणी में आती हैं—  
 (A) उद्योग (B) वाणिज्य  
 (C) व्यापार (D) उपरोक्त सभी
172. एक फर्म का औसत लागत वक्र इस नाम से भी जाना जाता है—  
 (A) हानि वक्र (B) आय वक्र  
 (C) माँग वक्र (D) लाभ वक्र
173. सांख्यिकी में निर्धारित गुणांक का वर्गमूल कहलाता है—  
 (A) सह संबंध का गुणांक  
 (B) निर्धारित का गुणांक  
 (C) असंगत का गुणांक  
 (D) उपरोक्त सभी
174. भारतीय प्रतिभूति और विनियम बोर्ड द्वारा निर्देशित क्लॉज 49 का सूचीयन समझौते के वाक्यांश का संबंध है—  
 (A) निगमीय नैतिकता से  
 (B) निगमीय निदेशन से  
 (C) निगमीय उत्तरदायित्व से  
 (D) इनमें से कोई नहीं
175. मैरी पार्कर फालेट द्वारा बताए गए समन्वय के चार सिद्धान्तों में निम्न में से कौन नहीं है—  
 (A) प्राथमिक अवस्था  
 (B) निरंतरता  
 (C) प्रत्यक्ष संपर्क  
 (D) आयोजन

176. The third stage in product life cycle is—

- (A) Maturity
- (B) Growth
- (C) Maturity & growth both
- (D) Decline

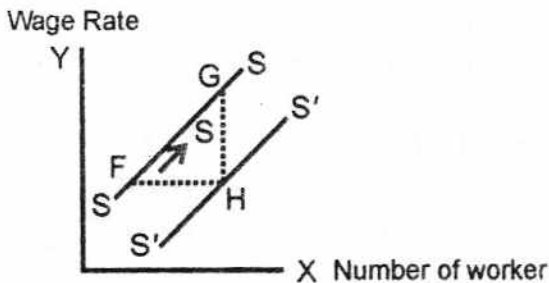
177. Who was the First Indian Governor of Reserve Bank of India ?

- (A) Sir Benegal Rama Rau
- (B) Sir C. D. Deshmukh
- (C) H. V. R. Iengar
- (D) None of these

178. Soft currency means whose supply (S) and demand (D) is—

- (A)  $S < D$  in the international market
- (B)  $S = D$  in the international market
- (C)  $S > D$  in the international market
- (D) None of these

179. Which of the following could explain a movement from point F to point G in the figure—



- (A) Increase in the market wage rate in the labour market
- (B) Increase in technical knowledge
- (C) Increase in population
- (D) None of these

180. If a commodity X is subject to an import duty of 25% devalorem, the nominal tariff is—

- (A) 50%
- (B) 25%
- (C) 12.5%
- (D) None of these

176. उत्पाद जीवन चक्र में तृतीय अवस्था है—

- (A) परिपक्वता
- (B) विकास
- (C) परिपक्वता एवं विकास दोनों
- (D) पतन

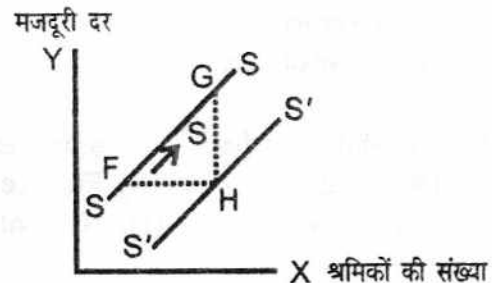
177. भारतीय रिजर्व बैंक के प्रथम भारतीय गवर्नर कौन थे ?

- (A) सर बंगाल रामा राव
- (B) सर सी. डी. देशमुख
- (C) एच. वी. आर. आयंगर
- (D) उपरोक्त में कोई नहीं

178. नरम मुद्रा का आशय है—(S = सप्लाई एवं D = माँग)—

- (A) अंतर्राष्ट्रीय बाजार में  $S < D$
- (B) अंतर्राष्ट्रीय बाजार में  $S = D$
- (C) अंतर्राष्ट्रीय बाजार में  $S > D$
- (D) इनमें से कोई नहीं

179. निम्नांकित में से कौन सा बिन्दु रेखाचित्र में F से G पर पहुँचने को व्यक्त करता है—



- (A) श्रम बाजार में बाजार मजदूरी दर में वृद्धि
- (B) तकनीकी ज्ञान में वृद्धि
- (C) जनसंख्या में वृद्धि
- (D) इनमें से कोई नहीं

180. यदि X वस्तु पर 25% मूल्यानुसार आगत शुल्क लगा दिया जाये तो मौद्रिक प्रशुल्क है—

- (A) 50%
- (B) 25%
- (C) 12.5%
- (D) इनमें से कोई नहीं

181. Following is not a financial rating agency—  
 (A) CARE (B) CRISIL  
 (C) NBA (D) None of these
182. Contest is a technique of—  
 (A) Consumer promotion  
 (B) Dealer promotion  
 (C) Both consumer and dealer promotion  
 (D) None of these
183. The term 'Wages' under the Employees State Insurance Act, 1948 does not include—  
 (A) Incentives  
 (B) Over-time wages  
 (C) Travelling allowance  
 (D) None of these
184. Holiday pay is treated as—  
 (A) Direct Labour Cost  
 (B) Fringe Benefits  
 (C) Overheads  
 (D) None of these
185. Accounting is the ..... of business.  
 (A) Language (B) Finance  
 (C) Account (D) None of these
186. The basic function of financial accounting is to—  
 (A) Assist the management  
 (B) Record all business transactions  
 (C) Record establishment data  
 (D) None of these
187. Accounting equation is—(A = Assets, L = Liabilities, P = Capital)  
 (A)  $A - L = P$  (B)  $A = L - P$   
 (C)  $A = P - L$  (D) None of these
188. Which of the following standard deals with related party disclosure ?  
 (A) AS - 17 (B) AS - 18  
 (C) AS - 19 (D) AS - 23
181. निम्नलिखित वित्तीय रेटिंग अभिकरण नहीं है—  
 (A) केयर (B) क्रिसिल  
 (C) एन.बी.ए. (D) इनमें से कोई नहीं
182. प्रतियोगिता तकनीक है—  
 (A) उपभोक्ता संवर्द्धन की  
 (B) विक्रेता संवर्द्धन की  
 (C) उपभोक्ता एवं विक्रेता संवर्द्धन दोनों की  
 (D) इनमें से कोई नहीं
183. कर्मचारी राज्य बीमा अधिनियम 1948 के तहत 'मजदूरी' में शामिल नहीं है—  
 (A) अनुप्रेरणार्थ  
 (B) ओवर टाइम मजदूरी  
 (C) यात्रा-भत्ता  
 (D) इनमें से कोई नहीं
184. अवकाश वेतन माना जाता है—  
 (A) प्रत्यक्ष श्रम लागत  
 (B) आनुषंगी लाभ  
 (C) उपरिव्यय  
 (D) इनमें से कोई नहीं
185. लेखांकन व्यापार की ..... है।  
 (A) भाषा (B) वित्त  
 (C) लेखा (D) इनमें से कोई नहीं
186. वित्तीय लेखांकन का मूल कार्य है—  
 (A) प्रबन्धन को सहयोग देना  
 (B) सभी व्यापारिक लेन देन का रिकार्ड रखना  
 (C) स्थापना सम्बन्धी रिकार्ड रखना  
 (D) इनमें से कोई नहीं
187. लेखांकन समीकरण है—(A = सम्पत्ति, L = दायित्व, P = पूँजी)  
 (A)  $A - L = P$  (B)  $A = L - P$   
 (C)  $A = P - L$  (D) इनमें से कोई नहीं
188. निम्न में से कौन-सा लेखा-मानक सम्बद्ध पक्ष प्रकटीकरण से सम्बन्धित है ?  
 (A) लेखा मानक - 17 (B) लेखा मानक - 18  
 (C) लेखा मानक - 19 (D) लेखा मानक - 23

189. Cash transaction means settlement on—

- (A) T + 0
- (B) T + 1
- (C) T + 2
- (D) T + 3

190. In AIDAS concept, D stands for—

- (A) Demand (B) Distribution
- (C) Direct selling (D) Desire

191. Cash Book is—

- (A) Principal book
- (B) Subsidiary book
- (C) Both A & B
- (D) None of these

192. Bank Balance as per cash book is—

- (A) Liability (B) Asset
- (C) Expenses (D) None of these

193. Estimate the Gross National Product (GNP) of an economy from the data given below—

- (1) Value of consumer goods and services Rs. 20,000 Cr.
- (2) Value of capital goods and services Rs. 10,000 Cr.
- (3) Value of exports Rs. 4000 Cr.
- (4) Value imports Rs. 2600 Cr.
- (5) Total depreciation Rs. 1600 Cr.

Which one of the following is correct—

- (A) Rs. 31,400 Cr
- (B) Rs. 32,400 Cr
- (C) Rs. 29,400 Cr
- (D) None of these

194. In perfect competition—

- (A) Price equals MR
- (B) Price equals AVC
- (C) Fixed cost equals variables cost
- (D) Price equals total cost

189. रोकड़ लेन देन का आशय निम्नलिखित के निपटान से है—

- (A) T + 0
- (B) T + 1
- (C) T + 2
- (D) T + 3

190. ए.आई.डी.ए.एस. (AIDAS) विचार में डी (D) से तात्पर्य है—

- (A) माँग (B) वितरण
- (C) प्रत्यक्ष विक्रय (D) इच्छा

191. रोकड़ बही है—

- (A) प्रधान किताब
- (B) सब्सिडियरी बुक
- (C) दोनों A एवं B
- (D) इनमें से कोई नहीं

192. रोकड़ बही के अनुसार बैंक बैलेंस है—

- (A) दायित्व (B) सम्पत्ति
- (C) खर्चा (D) इनमें से कोई नहीं

193. नीचे दिये गये आँकड़ों की सहायता से सकल राष्ट्रीय उत्पाद मूल्य का अनुमान लगाइये—

- (1) उपभोक्ता वस्तुओं एवं सेवाओं का मूल्य रु. 20000 करोड़
- (2) पूँजीगत वस्तुओं एवं सेवाओं का मूल्य रु. 10000 करोड़
- (3) निर्यातों का मूल्य रु. 4000 करोड़
- (4) आयातों का मूल्य रु. 2600 करोड़
- (5) सकल घिसावट व्यय रु. 1600 करोड़

निम्नांकित में से कौन सा सही है—

- (A) रु. 31,400 करोड़
- (B) रु. 32,400 करोड़
- (C) रु. 29,400 करोड़
- (D) इनमें से कोई नहीं

194. पूर्ण प्रतियोगिता में—

- (A) कीमत एवं एम.आर. बराबर होते हैं
- (B) कीमत AVC के बराबर होती है
- (C) स्थिर लागत एवं परिवर्तनशील लागत बराबर होते हैं
- (D) कीमत एवं कुल लागत बराबर होती है

195. Match list I to List II—

	List I (Economist)		List II (Concept/Theory)	
	(a)	(b)	(1)	(2)
	(c)	(d)	(3)	(4)
	(a)	(b)	(c)	(d)
(A)	4	3	1	2
(B)	3	4	2	1
(C)	2	3	1	4
(D)	None of these			

196. Choose correct combination—

- (A) Income Tax Act — 1961  
 (B) Wealth Tax Act — 1957  
 (C) Expenditure Tax Act — 1987  
 (D) All are correct

197. Choose incorrect combination—

- (A) Gift-Tax Act — 2009  
 (B) Factories Act — 1948  
 (C) Companies Act — 1956  
 (D) None of these

198. Who is Finance Minister of India—

- (A) Sushma Swaraj (B) Arun Jetly  
 (C) Suresh Prabhu (D) None of these

199. E.C.S. discussed in rule-74 of G.F. and A.R. stands for—

- (A) Exceptional Check System  
 (B) Electronic Clearing System  
 (C) Electronic Cheque System  
 (D) None of these

200. "Definition of Bill" has been given in GF and AR in—

- (A) Rule - 77 (B) Rule - 76  
 (C) Rule - 75 (D) None of these

195. सूची I का मिलान सूची II से कीजिए—

	सूची I (अर्थशास्त्री)		सूची II (अवधारणा/सिद्धान्त)	
	(a)	(b)	(1)	(2)
	(c)	(d)	(3)	(4)
	(a)	(b)	(c)	(d)
(A)	4	3	1	2
(B)	3	4	2	1
(C)	2	3	1	4
(D)	इनमें से कोई नहीं			

196. सही युग्म का चयन कीजिए—

- (A) आयकर अधिनियम — 1961  
 (B) सम्पत्ति कर अधिनियम — 1957  
 (C) व्यय कर अधिनियम — 1987  
 (D) उपरोक्त सभी युग्म सही हैं

197. गलत युग्म का चयन कीजिए—

- (A) उपहार टैक्स अधिनियम— 2009  
 (B) फैक्ट्री अधिनियम — 1948  
 (C) कम्पनी अधिनियम — 1956  
 (D) इनमें से कोई नहीं

198. भारत के वित्त मंत्री हैं—

- (A) सुपमा स्वराज (B) अरुण जेटली  
 (C) सुरेश प्रभु (D) इनमें से कोई नहीं

199. सामान्य वित्तीय एवं लेखा नियम 74 में वर्णित ECS का आशय है—

- (A) एक्सेप्शनल चेक सिस्टम  
 (B) इलैक्ट्रॉनिक क्लियरिंग सिस्टम  
 (C) इलैक्ट्रॉनिक चेक सिस्टम  
 (D) इनमें से कोई नहीं

200. सामान्य वित्तीय लेखा नियम में 'बिल की परिभाषा' दी गई है—

- (A) नियम - 77 में (B) नियम - 76 में  
 (C) नियम - 75 में (D) इनमें से कोई नहीं